




Która godzina?


Zadanie 1


Którą godzinę wskazują zegary? Napisz według wzoru:




7:00

19:00









Zadanie 2


Dorysuj wskazówki tak, aby zegary pokazywały zapisaną godzinę:




8:00



9:15



13:30



14:10



KAPITAŁ LUDZKI
NARODOWA STRATEGIA SPÓJNOŚCI



OŚRODEK
ROZWOJU
EDUKACJI

UNIA EUROPEJSKA
EUROPEJSKI
FUNDUSZ SPOŁECZNY





Zadanie dodatkowe

Zegarek Ani chodzi punktualnie. Zegarek Basi spieszy pięć minut, a zegarek Tomka spóźnia się pięć minut. Napisz pod każdym zegarkiem imię jego właściciela.

